



العام الدراسي ٢٠٢٥ / ٢٠٢٦ م



بنك الأسئلة لمقرر

تاريخ العالم الحديث والمعاصر

للمصف الثاني عشر الأدبي

(الفصل الدراسي الأول)

اعداد الموجهين الفنيين

أ. مها الحمد

أ. عبدالله الربيع أ. حسين أشكناني

أ. مريم الحربي أ. صيته الحجرف

نعم

الموجه الفني الأول للاجتماعيات

أ. محمود عبد الله تراكمه

إشراف الموجه الأول

أ. محمود التراكمه

التربية

وزارة

التوجيه الفني العام للاجتماعيات

الموجه الفني العام للاجتماعيات بالتكليف

محمد علي العتيبي

الموجه الفني العام للاجتماعيات - بالإتابة

أ. محمد العتيبي

م
الحمد

هذا العمل مُهدى لابنائنا المتعلمين

ولا يغني عن دراسة الكتاب المدرسي

يحتوي هذا العمل على التالي

١- بنك أسئلة تاريخ العالم الحديث والمعاصر

للفصل الدراسي الأول .

٢- امتحان إلكتروني تجريبي .

ملحق لكم رابط وباركون الامتحان التجريبي

<https://forms.office.com/r/jEAWE9Pn٧٢>

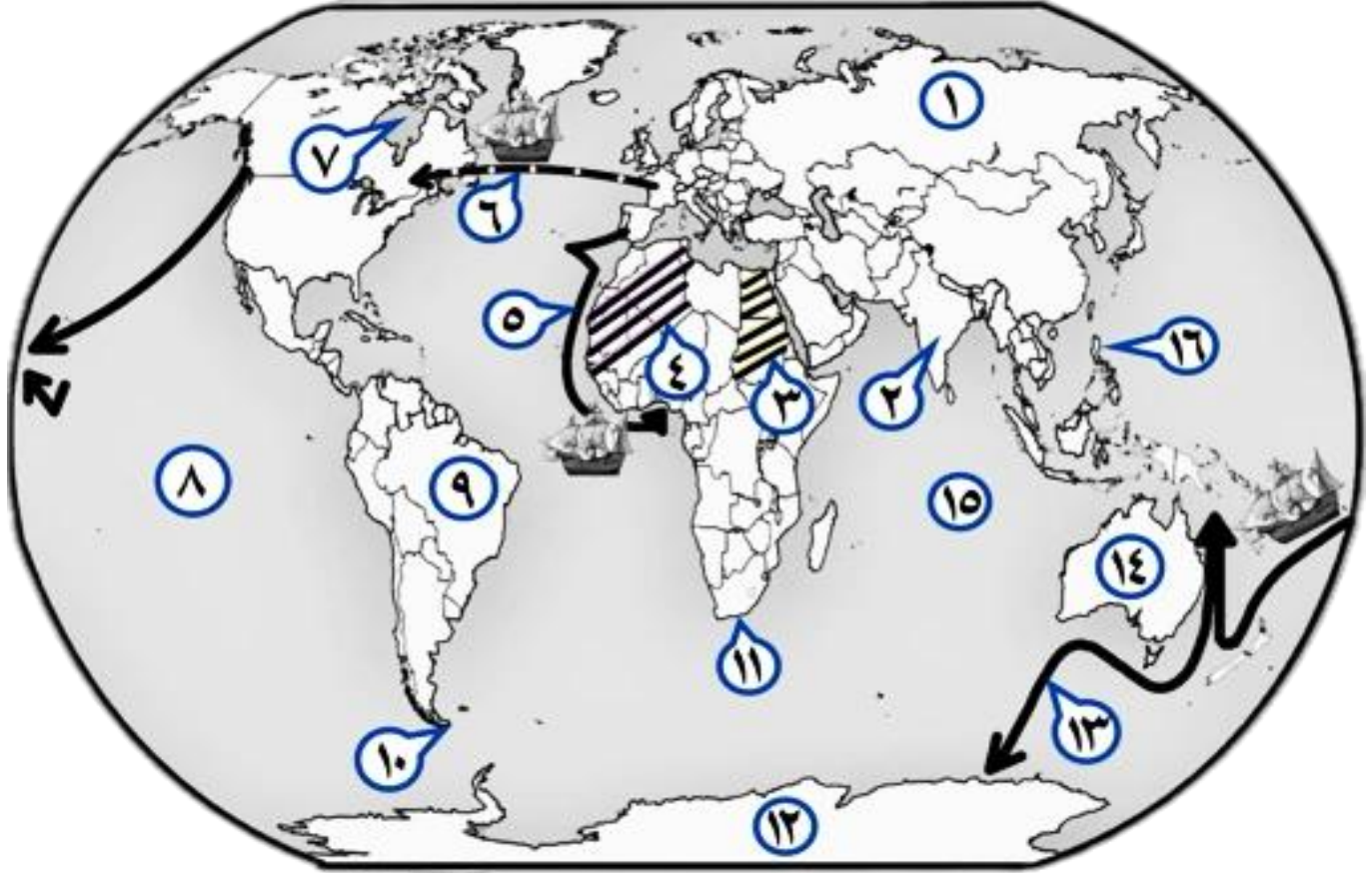
الامتحان التجريبي لمقرر تاريخ العالم
الحديث والمعاصر





نماذج أسئلة الخريطة

أ) - أمامك خريطة العالم السياسية - اكتب الرقم الدال على العبارات التي تليها :



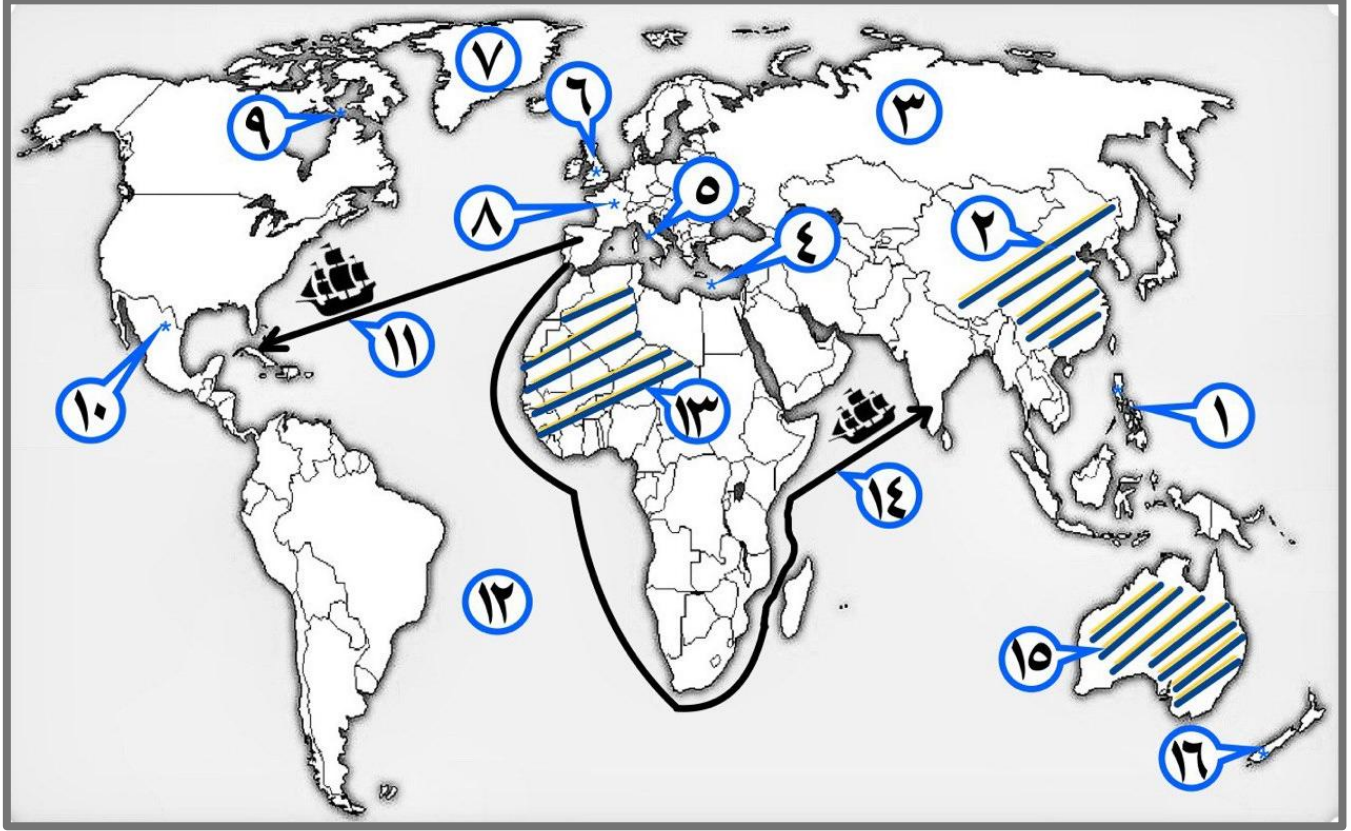
- المنطقة التي وصل إليها الرحالة الجغرافي بارثلميودياز عام ١٤٨٨ م يمثلها على الخريطة الرقم (.....)
- الجزر التي قتل فيها الرحالة الجغرافي " ماجلان " عام ١٥٢١ م يمثلها على الخريطة الرقم (....)
- القارة التي وصل إليها المستكشف الجغرافي " جيمس كوك " يمثلها على الخريطة الرقم (.....)
- الدولة الاستعمارية التي تمكنت من إخضاع سيبيريا يمثلها على الخريطة الرقم (.....)
- خط سير الرحالة الجغرافي " هنري الملاح " يمثلها على الخريطة الرقم (.....)
- مناطق الاستعمار البريطاني يمثلها الجزء المظلل ///// الذي يحمل على الخريطة الرقم (.....)



- المحيط الهندي يمثل على الخريطة الرقم (.....)
- المنطقة التي وصل إليها المكتشف الجغرافي "أمريكو فاسبوتشي" يمثلها على الخريطة الرقم (...)
- قارة أنتاركتيكا يمثلها على الخريطة الرقم (.....)
- خط سير الرحالة الجغرافي " جيمس كوك " يمثلها على الخريطة الرقم (.....)
- مضيق ماجلان يمثل على الخريطة الرقم (.....)
- خليج هدسون يمثل على الخريطة الرقم (.....)
- الدولة التي قامت فيها شركة الهند الشرقية الفرنسية عام ١٦٦٤ م يمثلها على الخريطة الرقم (.....)
- الدولة التي استعمرت معظم الأراضي الواقعة شرق جبال أورال يمثلها على الخريطة الرقم (.....)
- المنطقة التي وصل إليها المكتشف الجغرافي "فاسكو دي جاما" يمثلها على الخريطة الرقم (.....)
- رأس العواصف يمثل على الخريطة الرقم (.....)
- خط سير الرحالة جاك كارتيه يمثلها على الخريطة الرقم (.....)
- المحيط الهادي يمثل على الخريطة الرقم (.....)
- القارة التي وصل لها المكتشف تشارلز ويلكز عام ١٨٤٠ م يمثلها على الخريطة الرقم (.....)
- مناطق الاستعمار الفرنسي يمثلها الجزء المظلل ///// الذي يحمل على الخريطة الرقم (.....)



ب) - أمامك خريطة العالم السياسية - اكتب الرقم الدال على العبارات التي تليها :

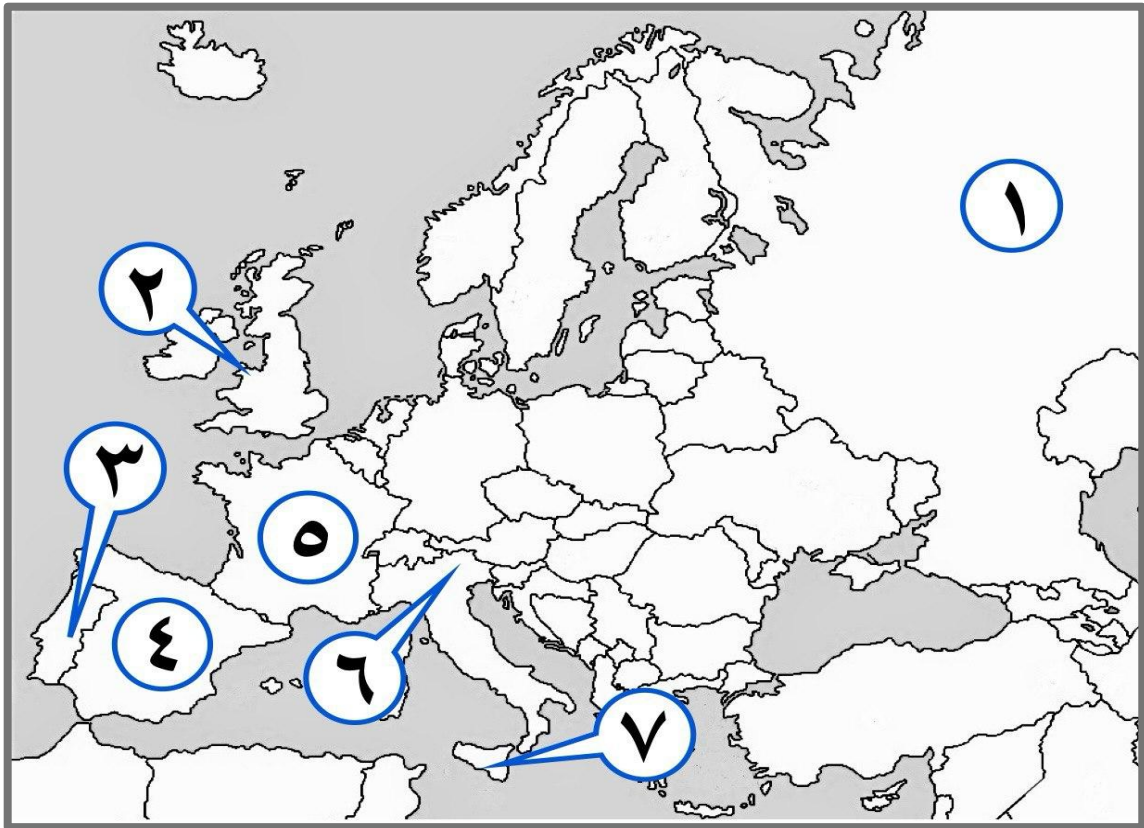


- نيوزيلندا يمثلها على الخريطة الرقم (.....)
- مضيق هدرن يمثلها على الخريطة الرقم (.....)
- جزر الفلبين يمثلها على الخريطة الرقم (.....)
- مناطق الاستعمار البريطاني (الإنجليزي) بمثلها الجزء المظلل على الخريطة الذي يحمل الرقم (.....)
- الإمبراطورية الاستعمارية الروسية يمثلها على الخريطة الرقم (.....)
- المكسيك يمثلها على الخريطة الرقم (.....)
- القاعدة التي انطلقت منها الثورة الصناعية يمثلها على الخريطة الرقم (.....)
- مناطق الاستعمار الفرنسي يمثلها الجزء المظلل على الخريطة الذي يحمل الرقم (.....)
- جزيرة "جرينلاند" يمثلها على الخريطة الرقم (.....)
- خط سير رحلة المكتشف " كريستوفر كولومبس " يمثلها على الخريطة الرقم (.....)
- المسطح المائي الذي قلت أهميته بعد حركة الكشوف الجغرافية يمثلها على الخريطة الرقم (.....)



- الدولة التي يوجد فيها ميناء بريستول يمثلها على الخريطة الرقم (.....)
- ميناء سانت مالو يمثلها على الخريطة الرقم (.....)
- خط سير الرحالة الجغرافي " فاسكو دي جاما" يمثلها على الخريطة الرقم (.....)
- دولة استعمارية احتلت الجزائر عام ١٨٣٠م يمثلها على الخريطة الرقم (.....)
- دولة استعمارية احتلت مصر عام ١٨٨٢م يمثلها على الخريطة الرقم (.....)

ج) - أمامك خريطة أوروبا السياسية - اكتب الرقم الدال على العبارات التي تليها :



- أول دولة أوروبية قامت بحركة الكشوف الجغرافية يمثلها على الخريطة الرقم (.....)
- جزيرة "صقلية" يمثلها على الخريطة الرقم (.....)
- ميناء بريستول الذي أبحر منه الرحالة الجغرافي "جون كابوت" يمثلها على الخريطة الرقم (.....)
- الدولة الاستعمارية التي اشتهرت بتجارة الفراء يمثلها على الخريطة الرقم (.....)
- بلاد الأندلس يمثلها على الخريطة الرقم يمثلها على الخريطة الرقم (.....)
- مدينة البندقية يمثلها على الخريطة الرقم (.....)
- الدولة الاستعمارية التي انتدبت سوريا ولبنان يمثلها على الخريطة الرقم (.....)



نماذج أسئلة اختيار من متعدد

أ) ظلل الخيار الصحيح من بين الخيارات التي تلي كل عبارة :

١- سبب رفض الملك الأسباني " فرديناند " و "الملكة إيزابيلا" مشروع كريستوفر كولومبس :

العجز المادي	الحرب مع المسلمين
الحروب الأهلية	عدم القناعة بمشروعه

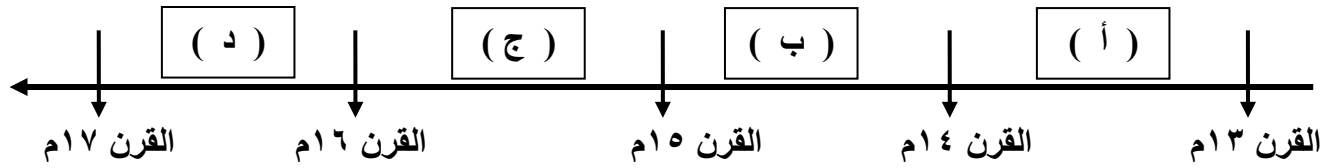
٢- الجزيرة التي اكتشفها الرحالة " جاك كارتيه " :

هاواي	ماديرا	سانت كروز	أورليانز
-------	--------	-----------	----------

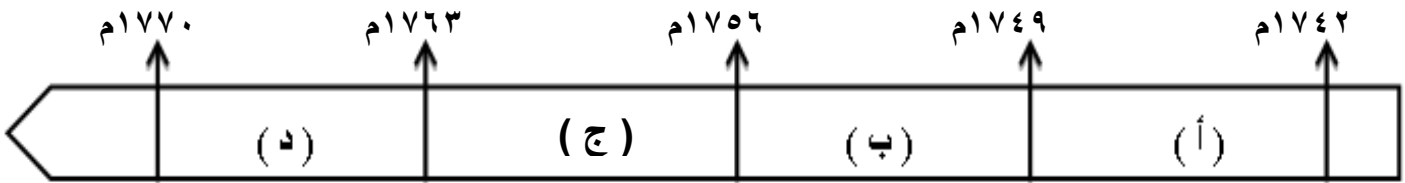
٣- أحد رواد الحركة الفنية بعصر النهضة الأوروبية :

دانتي	ليوناردو دافنشي	مارتن لوثر	أرازموس
-------	-----------------	------------	---------

٤- الفترة الزمنية التي وقعت فيها حركة الكشوف الجغرافية يمثلها على المخطط الزمني الحرف :

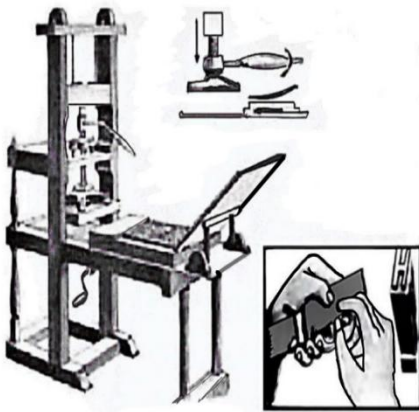


٥- الفترة الزمنية التي حدثت فيها حرب السنين السبع يمثلها على المخطط الزمني الحرف :



٦- الأثر المترتب على اختراع الآلة التي تمثلها الصورة المقابلة :

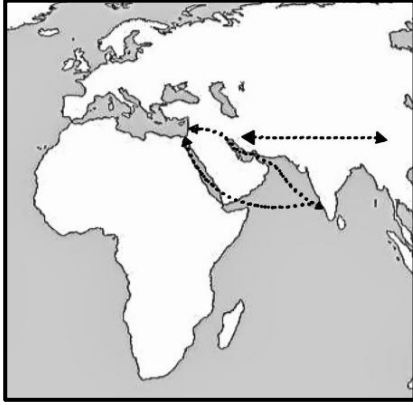
سهولة طباعة الكتب	إنتاج آلات من الصلب
بث الإشارات والأصوات	استخدام قوة الماء لعملية الغزل





٧- العامل الاستراتيجي لقيام النظام الاستعماري الأوروبي :

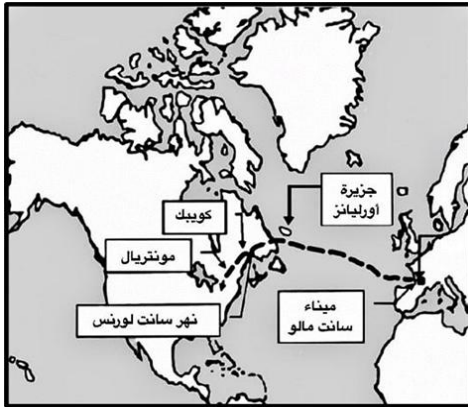
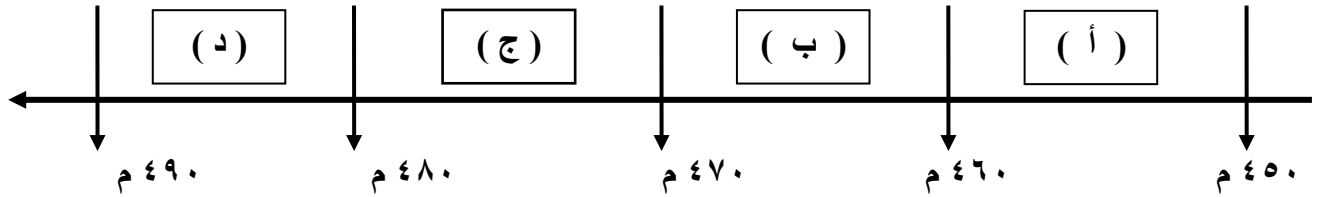
توفير خدمات للسفن التجارية	تصريف المنتجات الصناعية
استثمار أموالهم في المستعمرات	تجنيد سكان المستعمرات



٨- خط السير في الخريطة المقابلة يشير إلى:

اتجاه رحلات الكشف الإنجليزية	طرق التجارة قبل الكشف الجغرافية
خط سير رحلة فاسكو دي جاما	رحلة هنري الملاح

٩- الفترة الزمنية التي يقع فيها سقوط الإمبراطورية الرومانية يمثلها على المخطط الزمني الحرف :



٥- المكتشف الذي قام بالرحلة المشار لها على الخريطة المقابلة :

جون ديفيز	روبرت ماكلور
مارتن فروبوشير	جاك كارتية

٦- الأرقام الدالة على رحلات الكشف الإسبانية يمثلهم

في الجدول المقابل :

(٢ ، ١)	(٣ ، ٢)
(٤ ، ١)	(٤ ، ٣)

م	رحلة المكتشف
١	أمريكو فاسبوتشي
٢	فاسكو دي جاما
٣	هنري الملاح
٤	ما جلان



ب) اختر الإجابة الصحيحة من بين البدائل التي تلي كل عبارة :

١- المنطقة التي تمكن المكتشف "روبرت بيرى" من الوصول إليها عام ١٩٠٩ م :

أ- خليج هدسن ب- جزيرة أورليانز ج- بحيرة سليف الكبرى د- القطب الشمالي

٢- من أهم أعمال صاحب الصورة التي أمامك :



أ - رسم لوحة الموناليزا ب - عارض فكرة صكوك الغفران
ج - ألف رواية الحياة الجديدة د - اختراع أحرف الطباعة المعدنية

٣- الفترة الزمنية التي حدث فيها الفتح العثماني لمدينة القسطنطينية يمثلها على المخطط الزمني الحرف:



٤- الملاح الذي قام بالرحلة المشار إليها بالخريطة المقابلة :

أ - بارثلميو دياز ب - روبرت ماكلور
ج - جون فرانكلين د - فاسكو دي جاما

٥- المستعمرة البرتغالية الوحيدة في أمريكا الجنوبية :

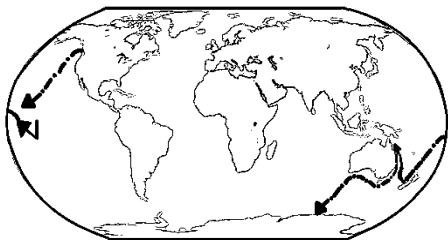
أ - المكسيك ب - جواتيمالا ج - البرازيل د - هندوراس

٦- الدولة الاستعمارية التي احتلت مصر عام ١٨٨٢م يمثلها على الخريطة التي أمامك:



أ - (١) ب - (٢)
ج - (٣) د - (٤)

٧- المكتشف الذي قام بالرحلة المشار لها على الخريطة المقابلة :



أ - روبرت ماكلور ب - جون ديفيز
ج - جاك كارتنيه د - جيمس كوك



صحح العبارة

(* صوب ما تحته خط في العبارات التالية :

م	العبارة	التصويب
١	القارة التي أثبت المستكشف تشارلز ويلكز انها كتلة ضخمة مغطاة بالثلج هي <u>أمريكا الشمالية</u>
٢	قُتل الرحالة " ماجلان " عام ١٥٢١م في جزر <u>ماديرا</u>
٣	نتج عن رحلة فاسكو دي جاما وصول البرتغال إلى <u>استراليا</u>
٤	الرحالة " جون كابوت " ينتمي إلى رحلات <u>الكشوف الأسبانية</u>
٥	أسهم " الإخوان رايت " في أحداث الثورة الصناعية في مجال <u>التعدين</u>
٦	استغلال دولة قوية لدولة أخرى ضعيفة بهدف السيطرة على <u>مواردها الاقتصادية</u> تسمى <u>الإمبريالية</u>
٧	اخترع "ديملر وبنز" عام ١٨٨٥م <u>القاطرة البخارية</u>
٨	سقوط عاصمة الإمبراطورية الرومانية " روما " على يد القبائل الجرمانية عام ٣٦٧م.
٩	الميناء الذي ابحر منه المكتشف الجغرافي جون كابوت اسمه <u>سانت مالو</u>
١٠	العالم الذي اخترع محرك الاحتراق الداخلي عام ١٨٩٢م اسمه <u>روبرت فولتن</u>
١١	المحور الأساسي للدخل القومي لمعظم دول أوروبا قبل الثورة الصناعية يسمى <u>التجارة</u>
١٢	الدولة الأوروبية التي انطلقت منها حركة النهضة الأوروبية ونقلت أوروبا من الظلمات إلى العصور الحديثة <u>أسبانيا</u>



أكمل العبارات

* (أكمل العبارات التالية بما يناسبها فيما درست :)

- ١- الدولة الأولى التي قامت بحركة الكشف الجغرافية في نهاية القرن ١٥ م اسمها
- ٢- حاجة الأوروبيين إلى المزيد من الذهب والفضة تسمى
- ٣- الأسطول الاسباني الذي تحطم على يد الإنجليز عام ١٥٨٨ م اسمه
- ٤- المستكشف الإنجليزي الذي وصل إلى خط عرض ٧٢° شمالاً اسمه
- ٥- النظام الاستعماري الذي أجبر المستعمرات على أن لا تتاجر مع أي دولة إلا البلد المستعمر يسمى
- ٦- المنطقة التي تمكن الرحالة "روبرت بيرى" من الوصول إليها عام ١٩٠٩ م اسمها
- ٧- أطلق المستكشف "كولومبس" على جزر الأنتيل الصغرى والكبرى بعد اكتشافهم عام ١٤٩٢ م اسم
- ٨- الاختراع الذي توصل إليه العالم "توماس أديسون" عام ١٨٧٧ م اسمه
- ٩- الطبقة التي سيطرت على مقاليد السلطة السياسية في أوروبا بعد الثورة الصناعية اسمها
- ١٠- الرحالة الذي تمكن من اكتشاف مضيق هدسن اسمه
- ١١- الملك الذي أطلق اسم رأس الرجاء الصالح على رأس العواصف اسمه
- ١٢- مؤلف كتاب الأمير عام ١٥١٣ م اسمه
- ١٣- العالم الذي اخترع الهاتف (التليفون) عام ١٨٧٦ م اسمه



التصنيف

(أ) صنف العوامل التالية طبقاً للجدول الذي يليها :

- الرغبة في استعادة أمجادها القديمة.
- توافر الأدوات اللازمة.
- استقرار الوضع في بلادهم .
- حلقة اتصال بين الشرق والغرب.

العوامل التي جعلت إيطاليا في مقدمة حركة النهضة الأوروبية	من العوامل التي جعلت البرتغال أول من قامت في حركة الكشوف الجغرافية في أوروبا
-	-
-	-

(ب) صنف اسماء الشخصيات التالية طبقاً للجدول الذي يليها :

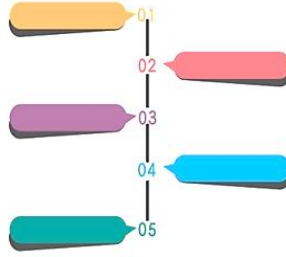
- كريستوفر كولومبس
- جون ديفيز
- جاك كارتية
- فاسكو دي جاما
- بارثلميو دياز
- ألكسندر ماكينزي
- ماجلان
- مارتن فرو بوشير

رحالة الكشوف البرتغالية	رحالة الكشوف الأسبانية	رحالة الكشوف الإنجليزية
-	-	-
-	-	-

(ج) صنف الأشكال الاستعمارية التالية طبقاً للجدول الذي يليها :

- الاستيطان
- المعاهدات والاتفاقيات الخاصة
- التفويض من المنظمات الدولية
- الغزو العسكري

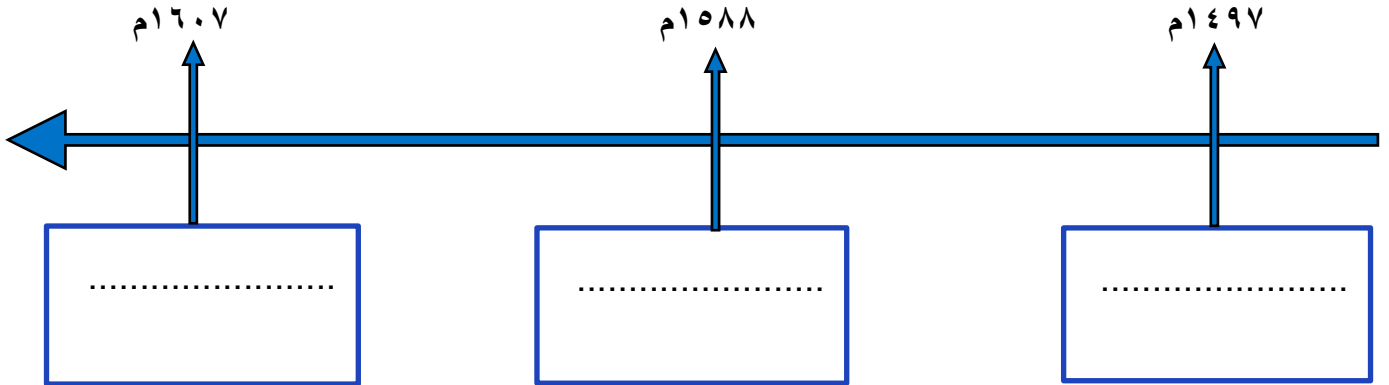
الاستعمار الفرنسي للجزائر	الاستعمار الإنجليزي لمنطقة الخليج	الاستعمار الإيطالي للصومال	الاستعمار الصهيوني لفلسطين
-	-	-	-



الترتيب الزمني

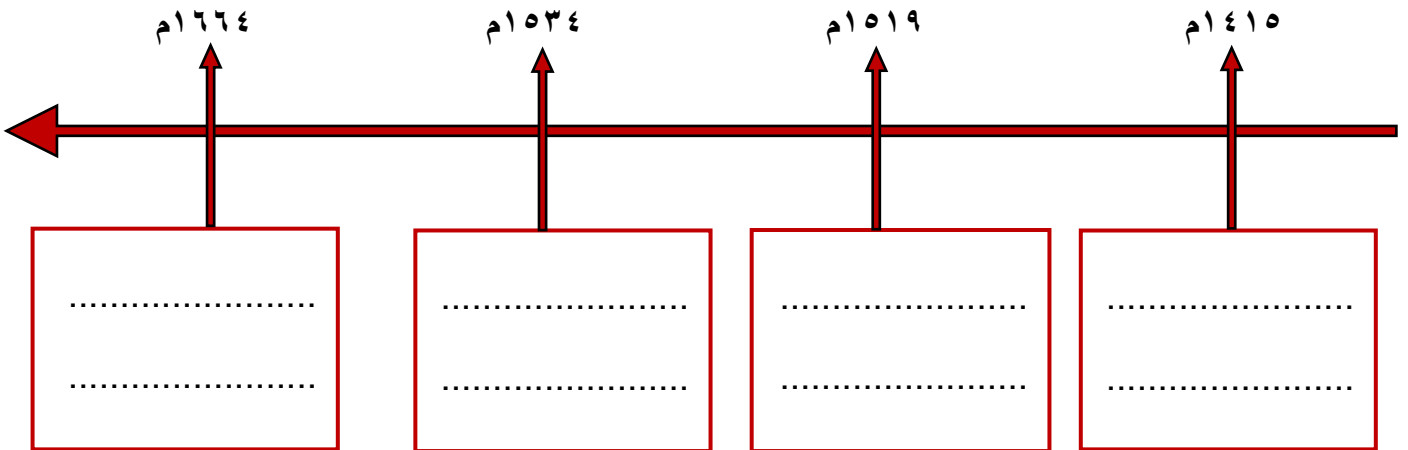
(أ) رتب الأحداث التاريخية التالية وفقاً للمخطط الزمني الذي يليها :

- تأسيس مستعمرة فرجينيا
- رحلة فاسكو دي جاما
- تحطم الأسطول الأسباني الأرمادا



(ب) رتب الأحداث التاريخية التالية وفقاً للمخطط الزمني الذي يليها :

- انطلاق رحلة ماجلان الجغرافية
- تأسيس شركة الهند الشرقية الفرنسية
- أبحر الرحالة جاك كارتيريه لاكتشاف أمريكا الشمالية
- بدأ رحلة هنري الملاح الجغرافية





علل (ما السبب ؟)

* (علل ما يلي :

١- قيام حركة الإصلاح الديني .

.....

.....

٢- لم تعمر الإمبراطورية الاستعمارية الهولندية طويلاً .

.....

.....

٣- البرتغاليون أول من بدأ حركة الكشف الجغرافية.

.....

.....

٤- انهيار الإمبراطورية الاستعمارية البرتغالية في الشرق .

.....

.....

٥- انطلاق شرارة الثورة الصناعية من إنجلترا .

.....

.....

٦- أطلق على أدباء النهضة الأوروبية اسم الإنسانيين .

.....

.....

٧- رفض الملك الأسباني " فردينالد " و " الملكة إيزابيلا " مشروع كريستوفر كولومبس.

.....



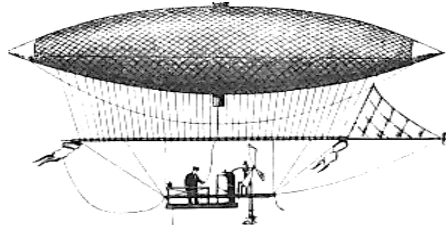
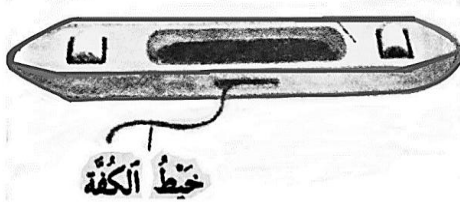
المقارنات

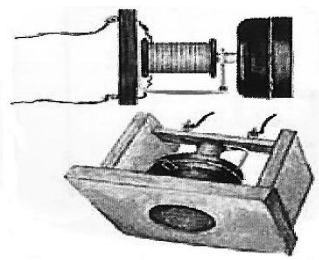

(*) قارن بين كل من:

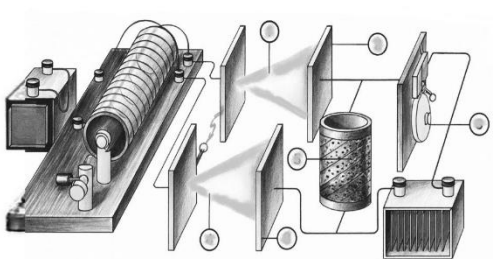

وجه المقارنة	الاستيطان	التمييز العنصري
التعريف
المثال



وجه المقارنة	الانتداب	الوصاية
التعريف
المثال

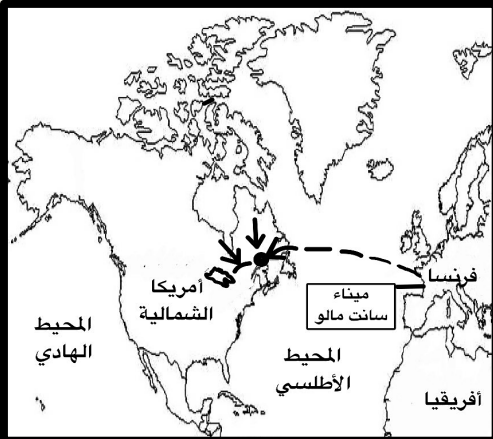
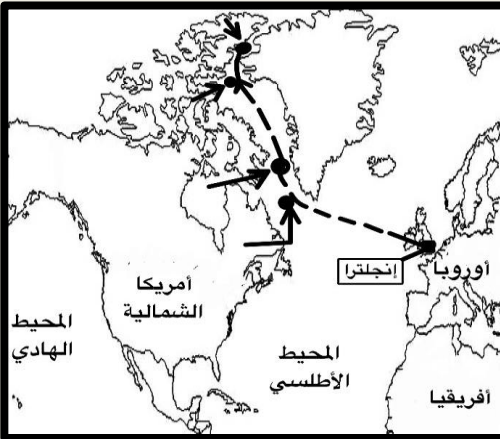
وجه المقارنة	الإمبراطورية البرتغالية	الإمبراطورية الإسبانية
اتجاه رحلات الكشف
المناطق التي احتلت بعد رحلات الكشف



		وجه المقارنة
.....	الاختراع
.....	أسم المخترع
.....	أثر الاختراع

		وجه المقارنة
.....	مجال الاختراع
.....	أسم المخترع

		وجه المقارنة
.....	الاختراع
.....	أسم المخترع
.....	المجال

		وجه المقارنة
.....	أسم المخترع
.....	الاختراع
.....	أثر الاختراع

		وجه المقارنة
.....	أسم الرحالة
.....	المناطق المكتشفة

		وجه المقارنة
.....	أسم الرحالة
.....	المناطق المكتشفة



فرق

أ (فرّق بين كل مما يلي :

الكشوف الجغرافية للرحالة ألكسندر ماكينزي	الكشوف الجغرافية للرحالة مارتن فروبشير
..... • •
العامل السكاني لقيام النظام الاستعماري الأوروبي	العامل الاستراتيجي لقيام النظام الاستعماري الأوروبي
..... • •
..... • •
المعاهدات والاتفاقيات الخاصة	الغزو العسكري
.....
.....

ب (فرّق بين إنجازات كل من :

ديلمر وبنز	روبرت فولتن
.....
صمويل موريس	أليساندرو فولتا
.....

ج (فرق بين النتائج السياسية للكشوف الجغرافية على كل من :

نظرية كوبرنيكوس	نظرية بطليموس
.....
.....



ما أوجه الاختلاف / الشبه

(أ) ما أوجه الاختلاف بين كُُل من :

١- رحلة المكتشف الجغرافيا فاسكو دي جاما ورحلة المكتشف كريستوفر كولومبوس .

.....

.....

٢- اكتشافات الرحالة الجغرافي أموندسون في القطب الشمالي والقطب الجنوبي .

.....

.....

(ب) ما أوجه الشبه بين كُُل من :

١- انهيار الإمبراطوريتين الاستعمارييتين البرتغالية والأسبانية .

.....

.....

٢- الاستعمار الفرنسي والاستعمار الإنجليزي .

.....

.....



* لاحظ الصور المقابلة ثم أجب عن الأسئلة التابعة لها :



١- ما اسم صاحب الصورة التي أمامك ؟

.....

٢- عدد آرائه السياسية .

.....

.....



١ - ما اسم الحركة التي يدعوا لها صاحب الصورة التي أمامك ؟

.....

٢- عدد أسباب قيام الحركة التي يدعو لها صاحب الصورة ؟

.....

.....



١- ما اسم صاحب الصورة التي أمامك ؟

.....

٢- اكتب دورة في قيام النهضة الأوروبية .

.....



١- ما اسم المستكشف الجغرافي الذي تمثله الصورة التي أمامك ؟

.....

٢- عدد النتائج المترتبة على رحلته الكشفية .

.....

.....




١- ما اسم الفنان الذي رسمهم الصورة التي أمامك ؟

.....

٢- عدد الأعمال الأخرى التي قام فيها الفنان الذي رسم الصورة المقابلة.

.....

.....



١- ما اسم الاختراع الذي تمثله الصورة التي أمامك ؟

.....

٢- أكتب الأثر المترتب على الاختراع .

.....



عَرِّف المفاهيم والمصطلحات التالية:

.....	النهضة الأوروبية
.....	كومات
.....	الإنسانيين
.....	الكشوف الجغرافية
.....	مراجعة نقدية
.....	التفويض الإلهي
.....	الكرافيل
.....	الاستعمار
.....	الاستعمار الأوروبي
.....	الميثاق الاستعماري
.....	الثورة
.....	الثورة الصناعية



فنّد أي (خطأ العبارة بالحجة والدليل) :



العبارة خاطئة والدليل على ذلك

١- لم يكن للكشوف الجغرافية دوافع اقتصادية.

.....

.....

٢- لم يكن للثورة الصناعية أي اختراع في مجال الكهرباء .

.....

.....

٣- اكتفى الإنجليز بإرسال رحلتين للكشوف الجغرافية وهما رحلة هنري هديسون ورحلة جيمس كوك.

.....

.....

٤- للاستعمار الأوروبي آثار إيجابية فقط على الدول المستعمرة .

.....

.....

٤- اقتصر مواهب ليوناردو دافنشي في مجال الرسم .

.....

.....



دلل على صحة العبارات التالية

١- ساهم المفكرون الأوروبيون في احياء الدراسات اليونانية القديمة .

-
-

٢- للاستعمار الأوروبي آثار إيجابية على المستعمرات .

-
-

٣- لعب الأمير هنري الملاح دوراً كبيراً في قيام حركة الكشوف الجغرافية قبل رحلته الكشفية.

-
-

٤- حققت نتائج رحلة فاسكو دي جاما بتحقيق آمال البرتغاليين .

-
-

٥- للكشوف الجغرافية دور في تكوين دول وإمبراطوريات كبرى استعمارية وتأسيس مراكز تجارية ساحلية .

-
-



٦- عانت شعوب أوروبا من الركود والتخلف خلال فترة العصور الوسطى .

-
-

٧- ساعدت أوضاع دول الشرق البرتغاليين في تأسيس إمبراطوريتهم واحتكار التجارة .

-
-

٨- تركت الكشف الجغرافية نتائج عظيمة على الاقتصاد العالمي .

-
-



عدد

١- مراحل نمو المدن الأوروبية .

-
-

٢- العوامل الاقتصادية لقيام النظام الاستعماري الأوروبي .

-
-

٣- العوامل التي ساعدت البرتغاليين في تأسيس الإمبراطورية واحتكار تجارة الشرق .

-
-

٤- مظاهر الحركة الفنية في عصر النهضة الأوروبية .

-
-

٥- الأسباب الدينية لقيام حركة الكشف الجغرافية .

-
-

٦- سمات الاقتصاد الأوروبي قبل قيام الثورة الصناعية .

-
-



أكتب دور الشخصيات

أكتب دور كل من الشخصيات التاريخية التالية مما درست :

حنا جوتنبرج

مارتن لوثر

نيقولا ماكيافلي

الملكة إيزابيلا

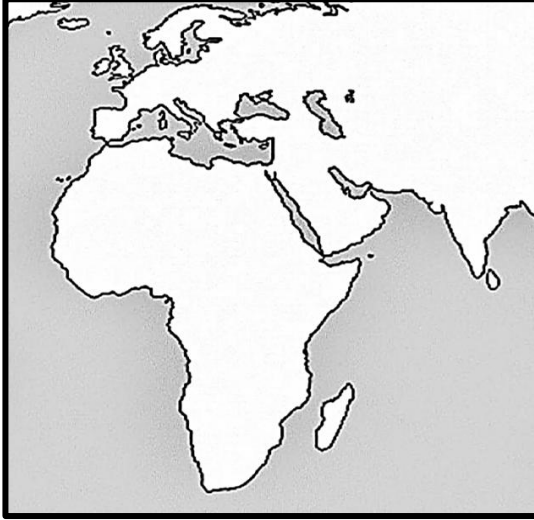
تشارلز ويلكز

الإخوان رايت



لاحظ الخريطة ثم أجب

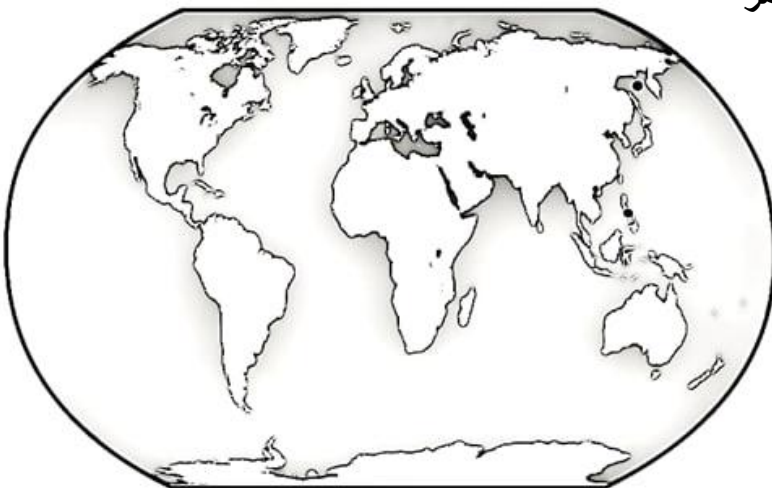
أ) لاحظ الخريطة المقابلة ثم أجب عن الأسئلة التالية :



١- أرسم خط سير رحلة " فاسكو دي جاما " على الخريطة المقابلة باستخدام الرمز ←

٢- دلل على أهمية رحلة " فاسكو دي جاما " للبرتغال .

ب) لاحظ الخريطة المقابلة ثم أجب عن الأسئلة التالية :



١- أرسم خط سير رحلة الكشوف الجغرافية الأسبانية الثالثة

" ماجلان " على الخريطة المقابلة باستخدام الرمز ←

٢- دلل على دور الكشوف الجغرافية في نشأت

الإمبراطورية الاستعمارية الأسبانية .